

高雄市 105 學年度市立國民小學教師聯合甄選

科目：一般類—「普通科目」試卷

- (C) 1. 下列各組選項中，何者韻尾相同？  
(A)「尢」／「弓」 (B)「弓」／「𠂔」  
(C)「𠂔」／「ㄟ」 (D)「又」／「尢」
- (B) 2. 國語注音符號中，「ㄛ」屬於下列哪一種韻符？  
(A)複韻符 (B)單韻符 (C)附聲韻符 (D)聲化韻符
- (D) 3. 下列「」中的字，何者讀音與其他不同？  
(A)豐「腴」 (B)阿「諛」 (C)須「臾」 (D)「庾」信
- (A) 4. 下列選項中的注音，何者寫成國字後前後相同？  
(A)「ㄅㄛ」功行賞／「ㄅㄛ」門弄斧  
(B)「ㄅㄛˋ」越失據／「ㄅㄛ」亂反正  
(C)麟角鳳「ㄣㄩˋ」／龍蟠虎「ㄣㄩˋ」  
(D)穩「ㄔㄩˊ」穩打／刀割針「ㄔㄩˊ」
- (D) 5. 下列成語何者用字有誤？  
(A)莫名其妙 (B)長驅直入 (C)駕輕就熟 (D)好高騖遠
- (A) 6. 成語「方枘圓鑿」，「枘」是指什麼？  
(A)樺頭 (B)樺眼 (C)卯眼 (D)木杵
- (B) 7. 下列各組成語，何者為相似成語？  
(A)潘鬢成霜／白雪陽春 (B)目光如豆／鼠目寸光  
(C)單衫百結／內顧之憂 (D)暴殄天物／利用厚生
- (B) 8. 成語「膠柱鼓瑟」，是比喻什麼？  
(A)浮泛不實 (B)固執拘泥，不知變通  
(C)利害切身 (D)焦急、慌亂
- (A) 9. 宋·解昉〈永遇樂·風暖鶯嬌〉詞：「風暖鶯嬌，露濃花重，天氣和『ㄊㄩˊ』。」其中『ㄊㄩˊ』國字應該是哪一個字？  
(A)煦 (B)栩 (C)吁 (D)徐
- (D) 10. 《莊子·大宗師》：「泉涸，魚相與處於陸，相呴以濕，相濡以沫，不如相忘於江湖。」相濡相呴，是比喻什麼？  
(A)如虎添翼 (B)如魚得 (C)朋比為奸 (D)在困境中相互救助
- (B) 11. 《詩經·召南·行露》：「誰謂雀無角，何以穿我屋？……誰謂鼠無牙，何以穿我墉？」鼠牙雀角，是比喻什麼？  
(A)小偷 (B)強橫惡勢力 (C)器量狹小之人 (D)野生動物橫行
- (D) 12. 《論語·子罕》載：「子曰：『歲寒，然後知松柏之後彫也。』」其中孔子之語主旨是什麼？  
(A)描述冬天的林相 (B)說明當時天候狀況  
(C)解釋植物生長規律 (D)借喻時窮乃見節義之理
- (D) 13. 「志士仁人，無求生以害仁，有殺身以成仁。」成語「殺身成仁」語出哪兒？  
(A)史記 (B)漢書 (C)孟子 (D)論語
- (C) 14. 有一篇作品內容為：「蓼蓼者莪，匪莪伊蒿。哀哀父母！生我劬勞。蓼蓼者莪，匪莪伊蔚。哀哀父母！生我勞瘁。緝之罄矣，維豐之恥。鮮民之生，不如死之久矣。無父何怙？無母何恃？出則銜恤，入則靡至。父兮生我，母兮鞠我。拊我畜我，長我育我，顧我復我，出入腹我。欲報之德，昊天罔極。南山烈烈，飄風發發。民莫不穀。我獨何害？南山律律，飄風弗弗，民莫不穀，我獨不卒。」請問其中抒發的是下列何種情感？  
(A)鶴雛之情 (B)舐犢之情 (C)孺慕之情 (D)折翼之痛

公職王歷屆試題 (105 教師甄試)

- (D) 15. 《易·繫辭下》：「尺蠖之屈，以求信也；龍蛇之蟄，以存身也。」龍蟄 蠖屈，是比喻什麼？  
(A)書法筆勢變化多端 (B)帝王後裔  
(C)勇猛沖擊，勢不可當 (D)隱居不仕
- (A) 16. 戰國時，廉頗任趙國大將，藺相如後來居上，廉頗不服。藺相如為了 趙國利益，處處退讓。其後，廉頗肉袒負荊至藺相如門謝罪，兩人遂 成刎頸之交。「負荊請罪」語出哪兒？  
(A)史記 (B)孟子 (C)國語 (D)戰國策
- (C) 17. 李商隱〈李夫人歌〉：「清澄有餘幽素香，鰥魚渴鳳真珠房。」鰥魚渴 鳳，是比喻什麼？  
(A)夫妻或戀人分離 (B)老而無妻  
(C)獨身男子急於求得配偶 (D)老而無夫
- (B) 18. 《世說新語·黜免》載，晉中軍將軍殷浩被廢，除名為民，在信安，常 終日書空「咄咄怪事」四字。後世遂以「殷浩書空」是比喻什麼？  
(A)行為怪誕 (B)事情令人驚奇詫異  
(C)行為好笑 (D)事與願違
- (A) 19. 下列各字之國語讀音，何者與「兄弟鬩牆」之「鬩」相同？  
(A)瀉 (B)輓 (C)猊 (D)漉
- (A) 20. 元·高明《琵琶記·旌表》：「玉燭調和，聖主垂衣。」聖主垂衣，是形容什麼？  
(A)天下太平，無為而治 (B)君王智能卓越  
(C)君王道貌岸然 (D)君王地位崇高
- (C) 21. 《左傳·僖公二十三年》：「若以君之靈，得反晉國，晉楚治兵，過於中原，其辟君三舍。」後以「避君三舍」、「避軍三舍」指退讓、迴避。「一舍」是指多少的距離？  
(A)十里 (B)二十里 (C)三十里 (D)五十里
- (A) 22. 明·袁宏道〈徐文長傳〉：「是時公督數邊兵，威振東南，介冑之士，膝語蛇行，不敢舉頭。」膝語蛇行，是比喻什麼？  
(A)畏服 (B)輕視 (C)愛慕 (D)怨懟
- (B) 23. 余秋雨〈沙原隱泉〉：「我站立峰巔，它委身山底；向著它的峰坡，陡峭如削，此時此刻，剛才的攀登，全化成了悲哀。嚮往峰巔，嚮往高度，結果峰巔只是一道剛能立足的狹地。不能橫行，不能直走，只享一時俯視之樂，怎可長久駐足安坐？上已無路，下又艱難，我感到從未有過的孤獨與惶恐。」這段文字，隱約透顯出什麼人生道理？  
(A)一步一腳印 (B)高處不勝寒 (C)登高必自卑 (D)登高始能望遠
- (D) 24. 《禮記·坊記》：「觴酒豆肉，讓而受惡，民猶犯次。」觴酒豆肉之「豆」，意謂什麼？  
(A)豆腐 (B)大豆 (C)豆苗 (D)盛食器
- (C) 25. 唐·王勃〈滕王閣序〉：「閭閻撲地，鐘鳴鼎食之家。」鐘鳴鼎食，是形容什麼？  
(A)農村生活 (B)寺廟生活 (C)富貴豪華 (D)士大夫生活
- (B) 26. 孔子認為「君子不器」，其義和下列何者最接近？  
(A)君子上達 (B)君子不可小知，而可大受  
(C)君子周而不比 (D)君子惠而不費
- (C) 27. 《紅樓夢》：「每日一入學中，四處各坐，卻八目勾留，或設言託意，或詠桑寓柳，遙以心照。」詠桑寓柳，是比喻什麼？  
(A)指桑罵槐 (B)指東說西 (C)借題傳情 (D)以自然景物入詩
- (A) 28. 宋·晏殊〈寓意〉：「油壁香車不再逢，峽雲無跡任西東。」此處之「油壁香車」，意謂什麼？  
(A)婦女所乘油壁車 (B)僧侶所乘油壁車 (C)商人所乘油壁車 (D)仙人所乘油壁車
- (A) 29. 《後漢書·第五倫傳》：「蜀地肥饒，人吏富貴，掾吏家貲多至千萬，皆鮮車怒馬，以財貨自達。」鮮車怒馬，是形容什麼？

## 公職王歷屆試題 (105 教師甄試)

- (A)豪富 (B)車水馬龍 (C)車馬盈門 (D)軍容壯盛
- (B) 30. 成語「鴻案相莊」，形容夫妻和好相敬。「鴻案相莊」之「案」，意謂什麼？  
(A)人名 (B)有足之盤盂類食器  
(C)桌子 (D)床具
- (C) 31. 潘耒〈日知錄序〉：「年友汪悔齋贈以買山之資」其中「年友」是指什麼？  
(A)年紀相仿的好友 (B)同生共死的摯友  
(C)同榜及第的朋友 (D)忘年之交

### 【32-34 題為閱讀測驗一】

景公之時，雨雪三日而不霽。公被狐白之裘，坐堂側陞。晏子入見，立有間；公曰：「怪哉！雨雪三日而天不寒。」晏子對曰：「天不寒乎？」公笑。晏子曰：「嬰聞古之賢君，飽而知人之饑，溫而知人之寒，逸而知人之勞；今君不知也。」公曰：「善。寡人聞命矣。」乃令出裘發粟以與饑寒者。令所睹於塗者，無問其鄉；所睹於里者，無問其家；循國計數，無言其名。士既事者兼月，疾者兼歲。（節錄自《晏子春秋》）

- (D) 32. 從本文來看，下列何者所述最合乎文義？  
(A)上天因景公驕奢，故雨雪不寒以示警。  
(B)晏子具洞察力，能預見未來發生的情況。  
(C)晏子勸諫雖獲景公稱讚，但景公終究未納諫。  
(D)景公養尊處優，在晏子勸諫前無法體察民間疾苦。
- (C) 33. 文中「所睹於里者，無問其家」之「其家」指的是什麼？  
(A)景公之家 (B)晏子之家 (C)饑寒者之家 (D)發粟者之家
- (C) 34. 「所睹於塗者」中的「塗」與下列哪一選項中的「塗」同義？  
(A)肝腦塗地 (B)生靈塗炭 (C)道聽塗說 (D)塗脂抹粉

### 【35-37 題為閱讀測驗二】

關關雎鳩，在河之洲。窈窕淑女，君子好逑。參差荇菜，左右流之。窈窕淑女，寤寐求之。求之不得，寤寐思服。悠哉悠哉！輾轉反側。參差荇菜，左右采之。窈窕淑女，琴瑟友之。參差荇菜，左右芼之。窈窕淑女，鍾鼓樂之。

- (D) 35. 「關關雎鳩」中的「關關」是寫什麼？  
(A)雎鳩啄食之樣態 (B)雎鳩比翼雙雙飛貌  
(C)雎鳩振翅之聲 (D)雎鳩之鳴叫聲
- (B) 36. 「窈窕淑女」句中，「窈窕」之意為何？  
(A)賢慧淑德貌 (B)幽閒貞靜貌 (C)體態輕盈貌 (D)嬌美秀麗貌
- (B) 37. 「君子好逑」意指什麼？  
(A)君子因喜愛而追求 (B)是君子的良配  
(C)君子應循禮聘求 (D)等待君子的追求

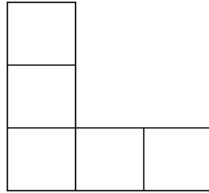
### 【38-40 題為閱讀測驗三】





河之魚，有豚其名者。游於橋間，而觸其柱，不知違去。怒其柱之攔己也，則張頰植鬣，怒腹而浮於水，久之莫動。飛鳶過而攫之，磔其腹而食之。好游而不知止，因游而觸物，不知罪己，乃妄肆其忿，至磔腹而死，可悲也夫！（節錄自蘇軾〈河豚魚說〉）

- (C) 38. 依所引文看來，文中之魚為何「張頰植鬣，怒腹而浮於水」？  
(A)在撞及橋柱之時，為了保護自己  
(B)害怕飛鳶攻擊自己，只好虛張聲勢。  
(C)誤認橋柱撞到自己，氣憤之下才會鼓脹。  
(D)游於橋間，為了增加阻力，避免撞及橋柱。

公職王歷屆試題 (105 教師甄試)

- (A) 39. 下列哪一項敘述，比較切合這篇文章的啟示？  
 (A)憤怒有因愚蠢而始者，將以後悔而終。  
 (B)不能涵養怒氣者，往往無法有太高的成就。  
 (C)文過飾非，乃至於惱羞成怒，必難容於世。  
 (D)憤怒不僅會使自己失去理智，也會連累別人遭殃。
- (A) 40. 「妄肆其忿」的「妄」，與下列那一個「妄」字意義最接近？  
 (A)「妄」下斷語 (B)口出「妄」言 (C)無「妄」之災 (D)狂「妄」自大
- (D) 41. 下列哪個名詞描述把數據改變為比較容易心算的形式；例如 $0.19 \times 419$ 可以看成是 $0.2 \times 400$   
 (A)重組 (B)估量 (C)轉繹 (D)增補
- (A) 42. 某學童拿到正方體積木說是豆腐，請問他在Van Hiele模式中是屬於何種發展階段？  
 (A)視覺辨識階段 (B)分析期 (C)非形式演繹階段 (D)演繹推理階段
- (A) 43. Polya (1945)在他的書「如何解題」中提到說明解題過程可分4個階段  
 a.策劃 b.實行 c.理解 d.回想。其正確順序為何？  
 (A)c a b d (B)a c b d (C)d a c b (D)a b c d
- (C) 44. 小威拿五張周長4公分的正方形排成下列圖形，請問該圖形周長幾公分？  
 (A)5 (B)12 (C)20 (D)10



- (B) 45. 2、6、8、10 四個數字中的中位數為何？  
 (A)5 (B)6 (C)7 (D)8
- (B) 46. 國小數學加減法解題類型，需注意到起始量，改變量，結果量之間的相對關係問題，是屬於下列哪一種題目？  
 (A)比較型 (B)改變型 (C)合併型 (D)綜合型
- (C) 47. 憤怒鳥在上美術課時，利用三角形( $\triangle$ )，正方形( $\square$ )，圓形( $\circ$ )，畫了一張在正方形的右上角蓋住了圓的 $\frac{1}{4}$ ，且在正方形的左下方有一個三角形疊在它上面，請你從下面選項中，找出他畫的圖：  
 (A)  (B)  (C)  (D) 
- (C) 48. 下列何者是“量數同構型”的包含除題型？  
 (A)現在共有32條腿，總共有8隻青蛙，請問一隻青蛙有幾條腿？  
 (B)媽媽有30顆糖，要平分給兄弟兩人，請問每人可分幾顆？  
 (C)現在共有32塊蛋糕，每家分4塊，可以分給幾家？  
 (D)有20片花片，再來4花片，共有幾個花片？
- (D) 49. 統計圖表中，可呈現趨勢且有順序的為何種圖形？  
 (A)百分圖 (B)長條圖 (C)圓形圖 (D)折線圖
- (D) 50. 有一個三位數，其十位數字為3，三個數字的和為16，若百位數字與個位數字易位，則所得的新數比原數少297，求這個三位數為何？  
 (A)538 (B)637 (C)736 (D)835
- (B) 51. 一座三角形的公園，三邊的長分別是 150公尺、180公尺、240公尺。若要在這公園的三邊上設立路燈，各路燈間的距離要相等，且在三角形的頂點須各立一盞路燈，請問最少需多少盞路燈？  
 (A)16盞 (B)19盞 (C)22盞 (D)30盞



公職王歷屆試題 (105 教師甄試)

- (B) 52. 倫倫對凌凌說：當我在你這個年齡的時候，你只有兩歲；等你到我這個年齡的時候，我就41歲了。請問凌凌現年幾歲？  
(A)13歲 (B)15歲 (C)28歲 (D)39歲
- (C) 53. 甲、乙、丙三人，同時同地出發，依同方向繞周長1980公尺的圓池而走，每分鐘甲走330公尺，乙走220公尺，丙走198公尺，請問幾分鐘後三人會合於原出發點？  
(A)54分鐘 (B)60分鐘 (C)90分鐘 (D)270分鐘
- (D) 54. 某次考試中，參加考試的人共有200人，平均分數是64分；及格者的平均分數為67分，不及格者平均分數為57分，請問及格者多少人？  
(A)60人 (B)72人 (C)128人 (D)140人
- (A) 55. 有一籃橘子不足400個，今5個一數餘3個，6個一數餘4個，8個一數不足2個，則此籃橘子最多有多少個？  
(A)358個 (B)360個 (C)362個 (D)364個
- (B) 56. 平面上有A、B、C三個點，座標分別為：A(3,2)，B(5,1)，C(4,-3)，求三角形ABC的面積=？  
(A) 9 (B)  $\frac{9}{2}$  (C) 5 (D)  $\frac{5}{2}$
- (A) 57. 有一個三角形，其三個內角的度量成等差數列，且最大角為最小角的5倍，則此三角形的最小角是幾度？  
(A)20° (B)30° (C)40° (D)60°
- (A) 58. 若  $|x+2y-7| + |2x-y-4| + |x-y+k| = 0$ ，則k=？  
(A) -1 (B) 1 (C) -5 (D) 5
- (D) 59. 擲一均勻骰子2次，點數和不小於8的機率是多少？  
(A)  $\frac{5}{36}$  (B)  $\frac{7}{36}$  (C)  $\frac{10}{36}$  (D)  $\frac{15}{36}$
- (D) 60. 阿發想買藍色與黑色兩種鋼筆，如果兩種鋼筆總共至多買15枝，而且藍色鋼筆的數目不超過黑色鋼筆數目的2倍，又藍色鋼筆最少買6枝、黑色鋼筆最少買4枝，有幾種可能的買法？  
(A) 6種 (B) 9種 (C) 12種 (D) 18種
- (B) 61. 1920年（大正9年）澎湖宿儒\_\_\_\_\_組織高雄第一個詩社—「旗津吟社」，並教授詩文，留有「旗鼓相當，維揚我武，津樑鞏固，克壯其猷」的詩句，戰後遂取「旗津」為區名。以上空格應為下列何人？  
(A)陳朝興(興如) (B)陳天賜(錫如) (C)陳賜揆(魁如) (D)陳旗津(津如)
- (C) 62. 旗山原稱為(A)旗尾山 (B) 旗鼓山 (C) 蕃薯寮 (D) 靈象山。1920年（大正9年），改稱為旗山。
- (D) 63. 二十世紀末，臺灣本土化興起，臺灣的南島民族向政府發出正名的要求，經過多年的努力，終於在(A)1998年8月(B)1996年8月(C)1995年8月(D)1994年8月，透過修憲將憲法中「山胞」修正為「原住民」。
- (A) 64. 某族舉行年度重要祭典時會有盪鞦韆的活動，請問這是？  
(A)魯凱族的黑米祭典 (B)鄒族的瑪雅斯比  
(C)布農族的射耳祭 (D)以上皆非
- (C) 65. 文獻記載，至乾隆25年間，清代鳳山縣的高雄平原已形成幾處重要街市。試問，下列何者不會是當時的街市？  
(A)阿公店街 (B)下陂頭街 (C)蕃薯寮街 (D)半路竹街
- (B) 66. 清末打狗開港後，天主教和基督教相繼傳入當時的鳳山縣地區。請問下列何者與此階段傳教並無直接的歷史關聯？  
(A)前金玫瑰聖母堂 (B)旗山聖若瑟天主堂  
(C)長老教會鳳山教會 (D)萬金聖母聖殿

公職王歷屆試題 (105 教師甄試)

- (B) 67. 鐵路是近代極為重要的交通工具，試問高雄地區最早成為鐵路縱貫線南部終點車站的是？  
(A)今三塊厝 (B)今哈瑪星 (C)今大港埔 (D)今鳳山
- (D) 68. 日治時期臺灣人抗日事件中，何人的事蹟與高雄無直接關係？  
(A)鄭吉生 (B)張石定 (C)拉馬達星星 (D)蔡清琳
- (C) 69. 某國小週三進修由校長帶往以荒野為營造主軸的「洲仔濕地公園」進行環境教育深度探訪，該園以尊重大自然的精神，在繁華的城市中心，創造生態豐富之棲地景觀，為萬物提供一處安身立命的方舟，提供市民自然觀察、休閒遊憩、環境教育等全方位濕地功能。請問下列哪座濕(溼)地公園也在高雄市區內？  
(A)鰲鼓濕(溼)地公園 (B)四草濕(溼)地公園  
(C)中都濕(溼)地公園 (D)官田濕(溼)地公園
- (C) 70. 2004年(民國93年)高雄市、港配合政府發展為「亞太營運中心」，正式更名為  
(A)高雄加工出口區 (B)台灣航太營運站  
(C)全球運籌管理中心 (D)亞太經貿區
- (A) 71. 最能彰顯高雄市內門區的民俗藝陣是？  
(A)宋江陣 (B)蜈蚣陣 (C)十二婆姐陣 (D)八家將
- (D) 72. 皮影戲是高雄特有之文化，下列何者不是高雄境內的皮影戲團？  
(A)復興閣皮影戲劇團 (B)永興皮影劇團  
(C)東華皮影戲團 (D)長義閣皮影戲團
- (A) 73. 出生臺南柳營世家，赴日求學，課餘勤力學畫，曾隨楊三郎同船前赴歐洲遊學習畫；戰後移居高雄，並籌組「高雄美術研究會」，對臺灣的美術教育、美術風氣推動給予熱誠的關心與贊助。請問他是？  
(A)劉啟祥 (B)張啟華 (C)林天瑞 (D)林有滂
- (A) 74. 以下哪一處被定位為多功能文化園區，包括複合機能的多功能演藝廳、文化創意商業空間的視覺展覽館，以及獨具特色的藝術圖書館。於西元2012年3月啟用，是一融合生活藝術與在地文化特色的綜合性文化中心。設計意象強調自然元素，以半戶外建築空間與週遭生態系統結合，營造東方禪學之美。  
(A) 大東文化藝術中心 (B) 岡山文化中心  
(C) 衛武營藝術文化中心 (D) 高雄文化中心
- (B) 75. 高雄捷運美麗島站「光之穹頂」大廳，邀請世界哪位知名藝術大師擔綱創作，藉由融合各類玻璃藝術經典與製作技術玻璃，為高雄捷運公司創作全球最大一體成型單件玻璃公共藝術作品「光之穹頂」，為港都帶來嶄新的美學氛圍，更讓高捷美麗島站成為新興的觀光景點。  
(A)安藤忠雄 (B)Narcissus Quagliata(水仙大師)  
(C)伊東豐雄 (D)高松伸
- (D) 76. 下列有關莫拉克颱風的氣候現象與其影響，何者錯誤？  
(A)降雨強度過大是造成嚴重災害的主要原因  
(B)甲仙小林村幾近滅村  
(C)背後隱含的氣候現象是鮮明的乾季和雨季  
(D)颱風帶來豐沛雨量，高雄水資源穩定無虞
- (B) 77. 為臺灣唯一以防洪為主要標的之水庫，主要功能為防洪與農田灌溉，為戰後臺灣最早完成之水庫。是指：  
(A)鳳山水庫 (B)阿公店水庫 (C)美濃水庫 (D)澄清湖水庫
- (D) 78. 哈瑪星鐵道文化園區原為高雄港站，是高雄第一個火車站，為高雄當時開啟了海陸聯運的發展。二次大戰時，火車站不幸遭受空襲摧毀，在經過簡易整修後，高雄港站如今以打狗鐵道故事館的全新面貌呈現。請問：哈瑪星是在高雄市的哪一區？  
(A)旗津區 (B)前鎮區 (C)鹽埕區 (D)鼓山區

公職王歷屆試題 (105 教師甄試)

- (A) 79. 燕巢區培育出多種鮮脆的水果，有「燕巢三寶」之譽的是指？  
(A)棗子、芭樂與西施柚 (B)棗子、葡萄與西瓜  
(C)芒果、芭樂與蓮霧 (D)棗子、芭樂與蓮霧
- (C) 80. 漁人碼頭、真愛碼頭等舊港區水岸已相繼於92年、94年轉型發展為觀光休閒水岸，95年亦開闢下列哪個碼頭，解開港區水岸與都市隔閡。  
(A)新光碼頭 (B) 香蕉碼頭 (C)光榮碼頭 (D)旗津碼頭

公  
職  
王