

臺灣警察專科學校專科警員班第三十五期 (正期學生組)

新生入學考試中外地理科試題

壹、單選題：

(一)三十題，題號自第 1 題至第 30 題，每題二分，計六十分。

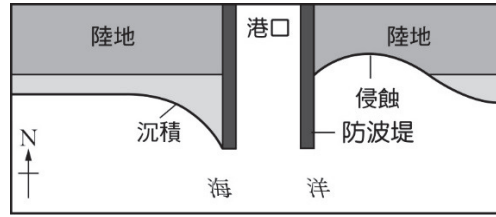
(二)未作答者不給分，答錯者不倒扣。

(三)請將正確答案以 2 B 鉛筆劃記於答案卡內。

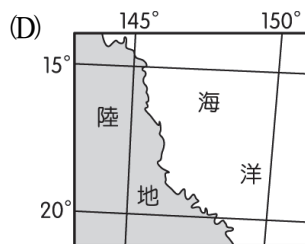
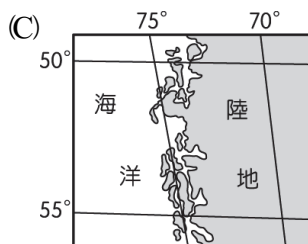
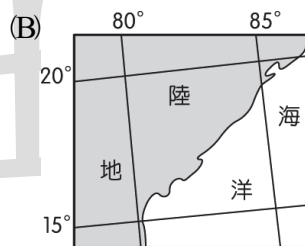
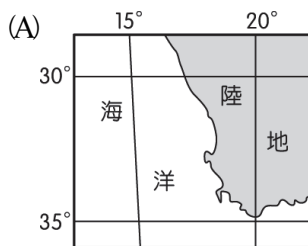
- (C) 1. 地表的主要高山如玉山山脈、喜馬拉雅山山脈、阿爾卑斯山山脈等，這類高大山脈主要是由那種營力形塑而成的？
(A)火山活動 (B)斷層作用 (C)褶曲作用 (D)堆積作用
- (C) 2. 歐美國家都市的市中心，夜間的街道通常人車稀少，顯得相當冷清；而臺北夜晚的市街就顯得忙碌、熱鬧，形成這種都市景觀差異的主要影響因素為何？
(A)氣候冷暖 (B)綠地多寡 (C)住商混合 (D)地價高低
- (A) 3. 烏魯魯岩是澳洲原住民的聖地，也是觀光的熱門景點，遊客來到此區最容易觀賞到什麼景觀？
(A)底岩裸露 (B)連綿砂丘 (C)礫石廣布 (D)綠蔭遮天
- (D) 4. 日漸商業化的產業活動，為撒赫爾地區帶來更嚴峻的乾旱和饑荒，人們開始察覺傳統「居所經常移動、自給自足」的生活方式，才是較適合撒赫爾地區的生態環境。傳統生活方式適合撒赫爾地區的主因是什麼？
(A)可維持較高的生產力 (B)可維持植被的數量
(C)可維持野生動物的龐雜性 (D)可保持環境負載力
- (B) 5. 臺北飛往紐約的民航機，大多經由安哥拉治機場中轉，只有少數航班選擇飛越太平洋在檀香山機場中轉，航空公司選擇安哥拉治機場中轉的主要考量為何？
(A)利用噴射氣流節省成本 (B)航線最接近地球的大圓
(C)經過的飛航管制區最少 (D)安哥拉治機場中轉費用較低
- (A) 6. 黃土高原的平坦面上，可以看到居民在平地上挖出七公尺深的方形大坑，並在坑的四壁下部鑿洞，形成天井式的四方宅院，這種聚落景觀與黃土的那項特性關係最密切？
(A)具垂直壁立性 (B)含有結核團塊
(C)顆粒細小透水性佳 (D)土層無顯著層理
- (C) 7. 中國準備在其西南邊境建設一系列的水壩，這些工程會影響到下游國家的水源供應，可能引發國際糾紛，其中那一河川不會受到水壩蓄水的影響？
(A)湄公河 (B)薩爾溫江 (C)昭披耶河 (D)伊洛瓦底江
- (B) 8. 印度古老寺廟保持泥土地面、許多道路旁也有泥土路，方便習慣於赤腳行走的人，不會被超過 60°C 的人工鋪面燙傷；停車場的車輛大多搖下車窗，以免車內溫度被曬得過火，這種高溫現象通常出現那個時段？
(A)二月 (B)五月 (C)八月 (D)十月
- (D) 9. 因應能源匱乏及全球暖化現象，市面上已出現油電混合或電力驅動的車輛，使用替代能源來降低對化石燃料的依賴，是未來交通工具的趨勢也是那種知識經濟的特徵？
(A)學習型經濟 (B)網路化經濟 (C)品牌經濟 (D)綠色經濟

公職王歷屆試題 (105 年警專考試)

- (A) 10. 海岸變遷對當地居民的影響很大，依據學者多年的研究顯示，若在海岸增加人工物如右圖的海岸地形示意圖，依示意圖推測，此地最大的海流方向為何？



- (A) 西向東 (B) 南向北 (C) 東向西 (D) 北向南
- (A) 11. 學者通常利用擦痕判斷冰河的移動方向，那一地形『無法』由擦痕來判讀冰河的流向？
(A) 蛇丘 (B) 冰斗 (C) 冰河槽 (D) 羊背石
- (D) 12. 航照影像或衛星像影的即時性，成為觀測大地的重要工具，一般由影像中的形線色質，可以判讀出聚落的何種特徵？
(A) 聚落的機能 (B) 聚落的職業類別
(C) 聚落的主要建材 (D) 聚落的分布類型
- (D) 13. 濁水溪兩岸是目前臺北都會區最重要的蔬菜供應地，這種現象與古典邱念農業區位有相當大的差異，形成這種市場附近集約度低於濁水溪兩岸的主要影響因素為何？
(A) 降水季節 (B) 水利設施 (C) 氣溫差異 (D) 交通革新
- (D) 14. 農業全球化之後，農業土地利用的專業化程度更高，各地區之間將發生何種變化？
(A) 生產空間分布由集中趨向分散 (B) 各地的交互作用減弱
(C) 自然環境對農業的影響力降低 (D) 各地的相互依賴加深
- (A) 15. 西班牙在歐盟區域發展基金的輔助下發展園藝農業，園藝作物為西班牙帶來大量的外匯收入，現階段西班牙園藝農業具有何特色？
(A) 主要生產者屬於自耕小型農場 (B) 園藝農業區集中在大都市邊緣
(C) 主要抽取地下水灌溉園藝作物 (D) 集約農業系統投入大量的機械
- (A) 16. 小天利用寒假到海外旅遊，行程包含葡萄產區參訪，在一連串晴朗的天空下，觀賞葡萄酒莊的釀酒過程。小天與同學分享旅遊時，最可能用那一張圖來表達這些葡萄酒莊的區位？

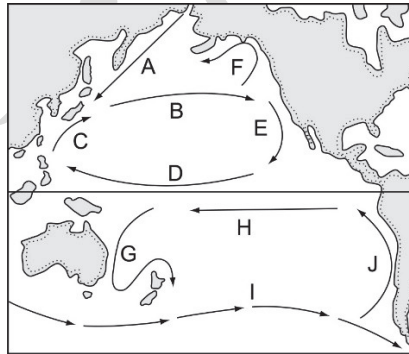


- (B) 17. 那些河流地形（甲. 河階；乙. 峽谷；丙. 曲流；丁. 沖積扇；戊. 三角洲）在發育的過程中，歷經侵蝕與堆積作用？
(A) 乙丙 (B) 甲丙 (C) 甲丁 (D) 丁戊

公職王歷屆試題 (105 年警專考試)

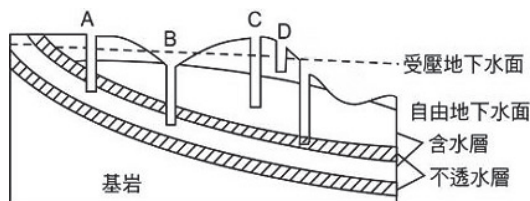
- (B) 18. 西方強權為了尋求熱帶香料及獲取廉價農礦資源，在東南亞地區統治了百餘年，這段殖民歷程在東南亞留下那些影響（甲. 穆斯林為主的菲律賓民答那峨島，數度與政府衝突；乙. 越南丘陵地種植咖啡，是殖民地式經濟發展的熱帶栽培業；丙. 雅加達、馬尼拉、曼谷由過去的港埠型都市，形成首要型城市；丁. 西方強權入侵、通婚，出現娘惹、峇峇）？
 (A) 甲乙 (B) 乙丙 (C) 甲乙丙 (D) 甲丙丁
- (C) 19. 都市發展過程中，須要面對許多大大小小的問題，北京和上海的都市機能雖有若干差異，但是兩座都市需要面對的共同急迫問題為何（甲. 人口密度過高；乙. 缺水問題；丙. 市容整頓；丁. 產業轉型；戊. 沙塵暴）？
 (A) 甲乙丙 (B) 乙丙丁 (C) 甲丙 (D) 丁戊

◎參考右側的洋流示意圖（20~21 題）



- (D) 20. 全球氣候變遷與聖嬰現象的周期變動有相當大的關係，聖嬰現象的研究是由那一洋流的異常現象開始？
 (A) A (B) C (C) G (D) J
- (D) 21. 溫哥華冬溫較同緯度地區為高，主要是受到那一洋流的影響？
 (A) A (B) C (C) E (D) F

◎參考右側的地下水示意圖（22~23 題）



- (B) 22. 澳洲大分水嶺東側的牧業發展，是利用那一種水井提供牲畜用水？
 (A) A (B) B (C) C (D) D
- (C) 23. 在人口稠密地區，那一種水井最容易受到汙染，不適合提供為民生用水？
 (A) A (B) B (C) C (D) D

◎阿福在整理旅遊照片時看到兩張照片，左圖是當地常常看到的建築物類型，右圖外觀像盤子堆疊的水池，是聯合國教科文組織登錄的 World Heritage。（24~25 題）



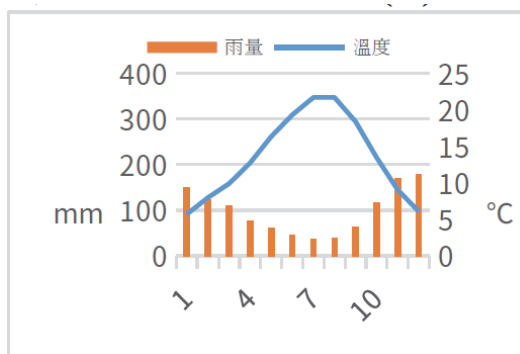
公職王歷屆試題 (105 年警專考試)

- (A) 24. 左圖的這類建築物，傳達出何種文化景觀？
 (A)伊斯蘭教 (B)猶太教 (C)基督教 (D)印度教
- (C) 25. 阿福依稀記得解說員提過右圖景觀的成因，回家後特別翻查資料確認，資料顯示此地最主要的營力是什麼？
 (A)侵蝕—河積 (B)火山—堆積 (C)溶蝕—結晶 (D)隆起—侵蝕

◎參考右側的北美洲示意圖 (26~30 題)



- (B) 26. 臺灣每年由北美洲進口許多水果，如柑橘、水蜜桃等，這些園藝作物最主要的栽培區在那裡？
 (A)甲 (B)乙 (C)丙 (D)丁
- (B) 27. 北美自由貿易區成立後，對產業的區位產生相當大的影響，有些老化或對勞力成本較敏感的工業，在調整工廠區位時，最常遷往何處？
 (A)乙 (B)丙 (C)丁 (D)己
- (D) 28. 小麥是世界大宗的糧食交易品，北美自由貿易區是全球輸出量最大的地方，小麥主要栽培區最接近圖中那一區？
 (A)丙 (B)丁 (C)戊 (D)己
- (A) 29. 右側的氣候圖，最可能出現在地圖中的那一地區？



- (A)甲 (B)乙 (C)丁 (D)戊
- (C) 30. 地圖中的戊區，地表地形最主要的營力是什麼？
 (A)風力堆積 (B)河流堆積 (C)冰河侵蝕 (D)風力侵蝕


公職王歷屆試題 (105 年警專考試)

貳、多重選擇題：

(一)共 十題，題號自第 31 題至第 40 題，每題四分，計四十分。

(二)每題五個選項各自獨立其中至少有一個選項是正確的，每題皆不倒扣，五個選項全部答對得該題全部分數，只錯一個選項可得一半分數，錯兩個或兩個以上選項不給分。

(三)請將正確答案，以 2B 鉛筆劃記於答案卡內。

- (A) 31. 基隆河上游大華一帶的壺穴景觀，可列名為國際級地形景觀，調查研究顯示，形成大華壺穴群的環境特色有那些？
(D) (A)硬岩河床 (B)軟岩河床 (C)回春作用 (D)侵蝕基準上移
(E)侵蝕基準下移
- (B) 32. 高地氣候與一般的氣候有相當大的差異，高地氣候通常具有那些特徵？
(D) (A)氣壓高、風速小 (B)日照強、氣溫低
(E) (C)日溫差小、年溫差大 (D)天然植被垂直分布
(E)迎風坡處易產生降水
- (A) 33. 高齡化與少子化是許多已開發國家共同的人口問題，高齡化與少子化會對一個國家造成那些影響？
(E) (A)勞動力不足 (B)醫療照護費用增加
(C)產品出口量增加 (D)社福支出降低
(E)扶養比增加。
- (A) 34. 巴西政府為了經濟發展，鼓勵開發亞馬孫盆地，導致雨林面積大幅縮減，雨林大量開發會帶來了那些影響？
(C) (A)增強全球暖化 (B)土壤侵蝕嚴重 (C)生物品種消失 (D)土壤鹽鹼化
(E)降水大量增加
- (A) 35. 在右圖所示的傳統建築地區，目前最可能出現那些現象？
(D) (A)單位面積天然植物種類繁多
(B)農業土地土壤鹽化問題嚴重
(C)商業性穀物和酪農業極興盛
(D)晝夜長短與溫差季節變化小
(E)土壤質地黏重且富含腐植質
- 
- (A) 36. 東歐各國在加入歐盟後，吸引眾多業者設廠成為西歐成衣產業重要生產基地，許多企業也不斷地到此投資電子廠，請問跨國企業前進東歐的主要區位因素為何？
(B) (A)歐盟市場廣大 (B)勞力相對便宜 (C)語言溝通方便 (D)歐洲大平原核心
(E)原物料豐富
- (A) 37. 每隔數年就會發生一次洋流水溫異常的現象，目前已累積大量的觀測資料，學者對此聖嬰現象仍然未盡瞭解。在聖嬰年的異常氣候中，那些地區最可能觀測到降水量，遠低於年平均降水量的現象？
(C) (A)印尼 (B)秘魯西岸 (C)澳洲北部 (D)加州海岸
(E)喀拉哈里盆地
- (B) 38. 中南美洲的礦藏豐富，大多數國家的工業卻進展緩慢，經濟發展遠遠落後於北美洲。這樣的差異和中南美洲的那些因素關係最大？
(D) (A)氣候條件 (B)大地主制 (C)人力資源不足 (D)殖民地式經濟
(E)可耕地面積不足

公職王歷屆試題 (105 年警專考試)

- (C) 39. 沙塵暴已成為跨國的環境問題，其中最大的砂源來自中國的西北地區，當地的土地沙漠化
(D) 為沙塵暴提供大量砂源，該區的沙漠化與那些條件直接相關？
(E) (A)開闢道路交通網路 (B)開闢農田灌溉渠道
(C)氣候長期乾旱缺水 (D)擴大牲畜放牧範圍
(E)長期灌溉土壤鹽化
- (B) 40. 臺灣農業因應環境變遷及全球化的影響，已逐漸轉化成市場導向及多元化導向的農業，農
(C) 業經營轉向市場導向及多元化導向的改變會呈現那些現象？
(D) (A)農產自給自足 (B)發展休閒農業 (C)提高附加價值 (D)改變生產結構
(E) (E)建立產銷品牌

公
職
王